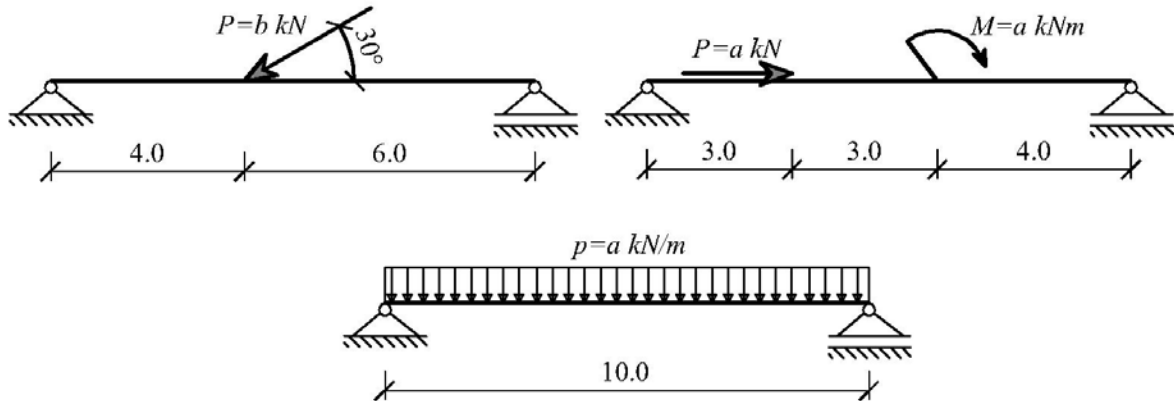


ВЈЕЖБА БР.5

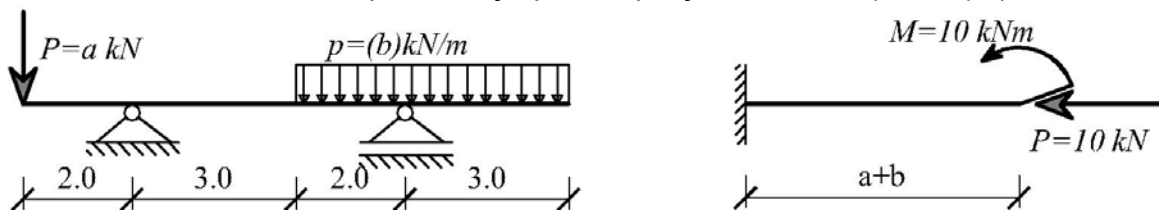
1. ЗАДАТАК

За дате носаче нацртати дијаграме пресјечних сила (N,T,M).
 (a/b=бр.слова у имену/бр.слова у презимену)



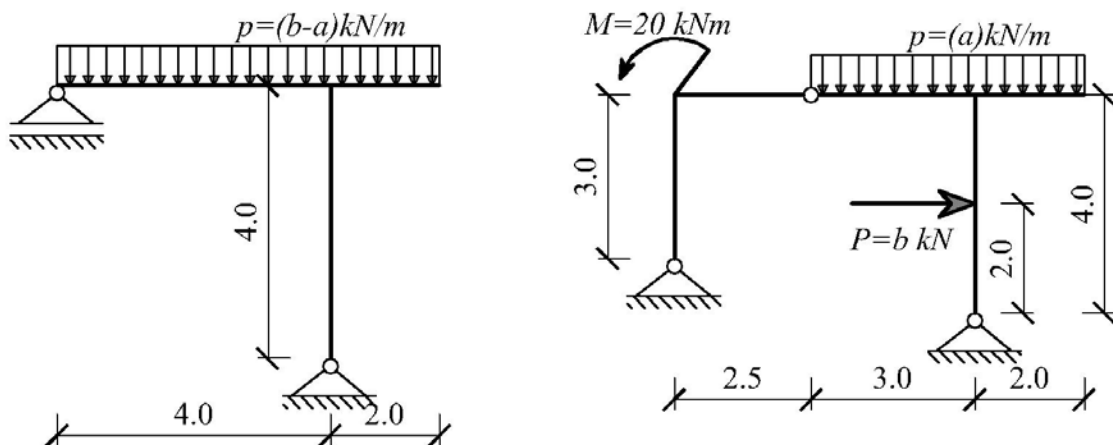
2. ЗАДАТАК

За дате носаче нацртати дијаграме пресјечних сила (N,T,M). (a/b=бр. ind.)



3. ЗАДАТАК

За дате рамове нацртати дијаграме пресјечних сила (N,T,M). (a/b=бр. ind.)



Асистент: мр Цвијић Радомир, дипл. инж. грађ.