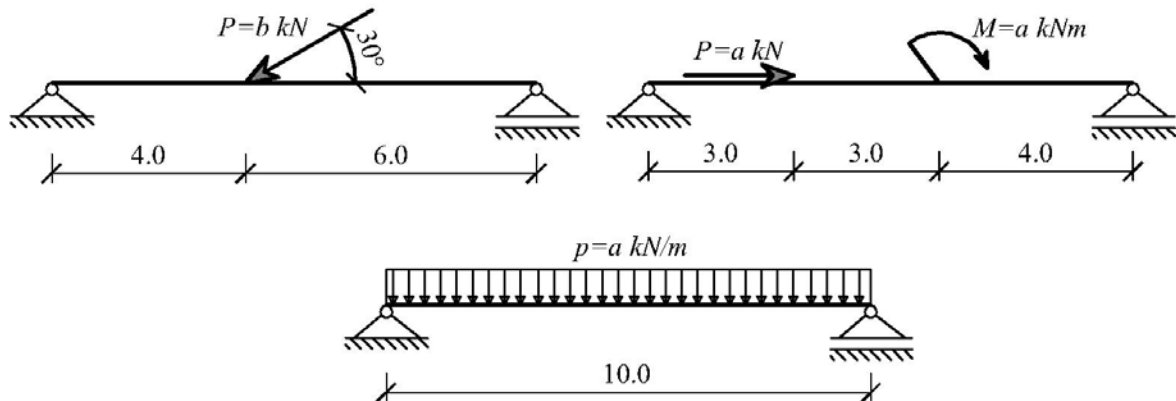


### ВЈЕЖБА БР.4

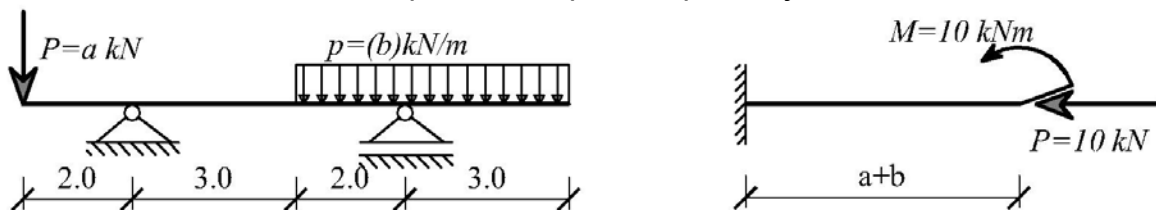
#### 1. ЗАДАТАК

За дате носаче и оптерећења одредити реакције ослонаца. ( $a/b$ =бр.слова у имену/бр.слова у презимену)



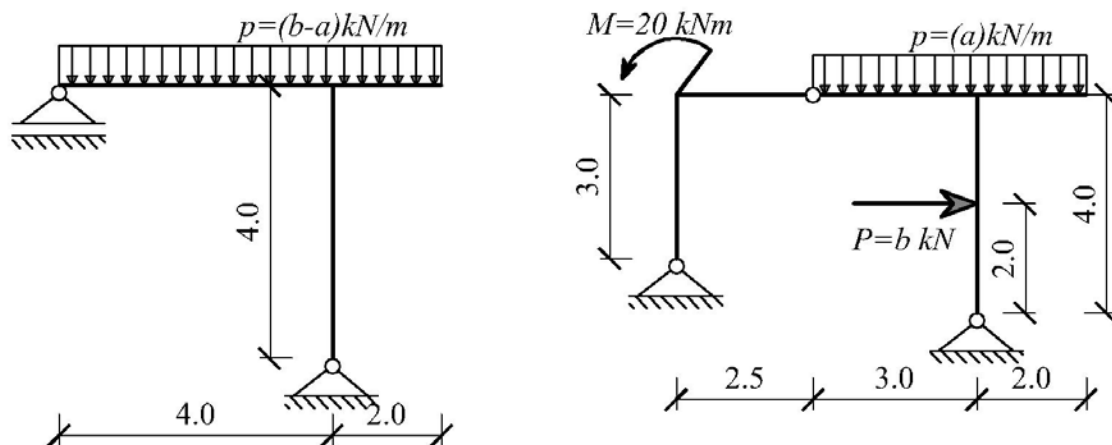
#### 2. ЗАДАТАК

За дате носаче и оптерећења одредити реакције ослонаца.



#### 3. ЗАДАТАК

За дате рамове одредити реакције ослонаца. За рам на три зглоба одредити и реакције везе.



Асистент: мр Цвијић Радомир, дипл. инж. грађ.